



5

1

- 1 kopje
- 5 kopjes
- 10 kopjes



6

1

€ 1

€ 2

€ 3



7

1

2 euro


5 euro

10 euro




8

2



het is . uur.

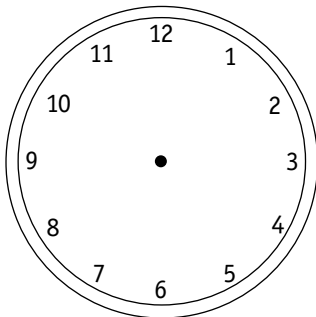


het is . uur.

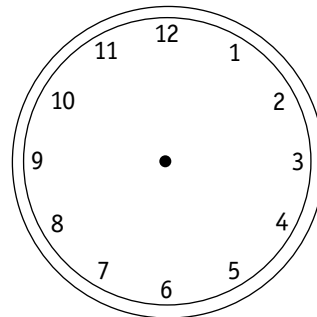


9

2



het is negen uur.



het is vier uur.

Meten en metend rekenen



11

1



12

5

minder dan 1 liter	1 liter	meer dan 1 liter



13

1

	1 kg
4	



	1 kg
3	



	1 kg
5	



14

2

10 euro



2 euro



15

1






4

1

tim heeft een doos met 7 stiften.
an heeft ook stiften.
samen hebben ze 15 stiften.
hoeveel stiften heeft an?




an heeft _____ stiften.



5

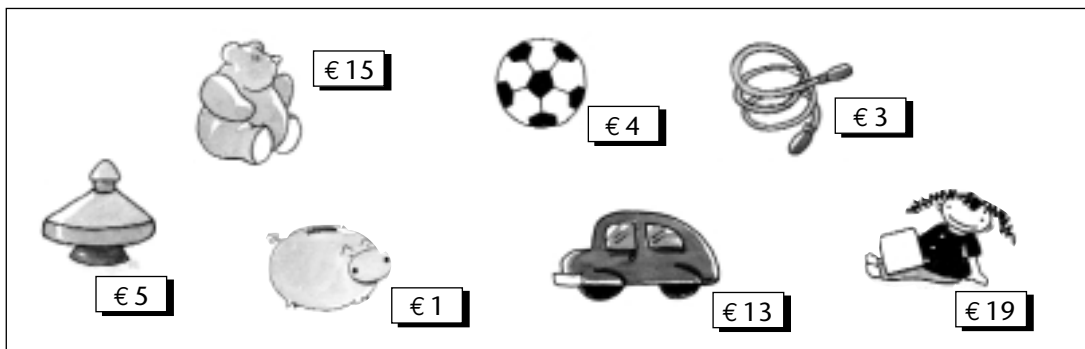
1

tom heeft 8 balletjes in zijn soep.
lien heeft er 4 meer.
hoeveel balletjes liggen er in de soep van lien?



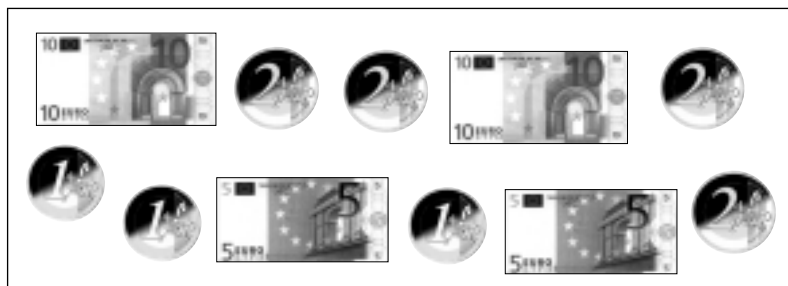
in de soep van lien liggen _____ balletjes.

Meten en metend rekenen



6

1






13

1

tom weegt 17 kg. rik weegt 19 kg.
hoeveel kilogram weegt tom minder dan rik?

tom weegt _____ kg minder dan rik.



14

1

mama draagt een zak met 3 kg sinaasappelen
en een zak met 5 kg appels.
hoeveel kilogram draagt mama?

mama draagt _____ kilogram.




15

1

tim wil een puzzel kopen. de puzzel kost 14 euro.
tim heeft nog niet genoeg gespaard. tine geeft
3 euro aan tim. nu heeft tim net genoeg om de
puzzel te kopen.

hoeveel euro had tim zelf al gespaard?

tim had zelf al _____ euro gespaard.



16

6

mama koopt een boek voor 9 euro en een tijdschrift voor 3 euro.
ze betaalt met een bankbiljet van 20 euro.

vul het kasticket in en zet een kruis op de muntstukken en bankbiljetten die mama kan terugkrijgen.

kasticket	
boek	€ .
tijdschrift	€ .
<hr/>	
totaal	€ .
gegeven	€ .
terug	€ .

